

Julio 6 2020

DOCENTE: Paola García

SEDE: Alfonso Reyes Echandía


JORNADA: Mañana

GRADO: 2-4

Padres de Familia y estudiantes a continuación presento las actividades de matemáticas para desarrollar en el cuaderno. Recuerde leer detenidamente la explicación pues, la comprensión de está te ayudará enormemente, en la realización de los ejercicios sugeridos.

COMPARACIÓN DE NÚMEROS DE TRES CIFRAS

¿Cuál de las dos escuelas tiene más estudiantes?



| | Centena | Decena | Unidad |
|---------|---------|--------|--------|
| V.E.S. | 5 | 8 | 9 |
| Faucett | 5 | 7 | 8 |



Lado cerrado $<$ Lado abierto

Coloco el lado abierto hacia el número mayor.

Signo

Mayor que $>$

Menor que $<$

Igual a $=$

w Leemos de izquierda a derecha

$$\begin{array}{ccc} \underline{589} & \text{es mayor que} & \underline{578} \\ & \downarrow & \\ \underline{589} & > & \underline{578} \end{array}$$

La escuela con más estudiantes es:

V.E.S.

Actividades para casa

1 Compara los números. Escribe $>$, $<$ o $=$.

Ejemplo: 325 $<$ 367

a) 456 434

b) 435 523

c) 689 689

Observa el ejemplo.



2 Compara los números. Escribe $>$, $<$ o $=$.

a) 149 187

c) 998 989


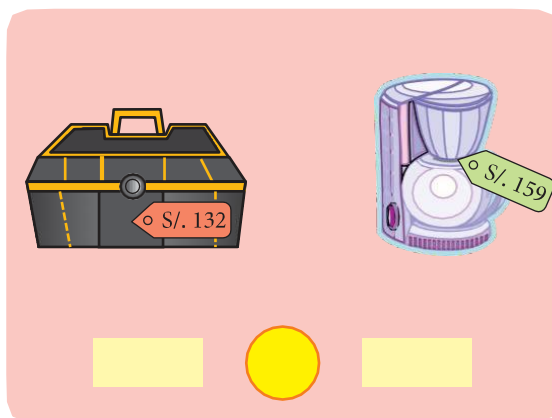
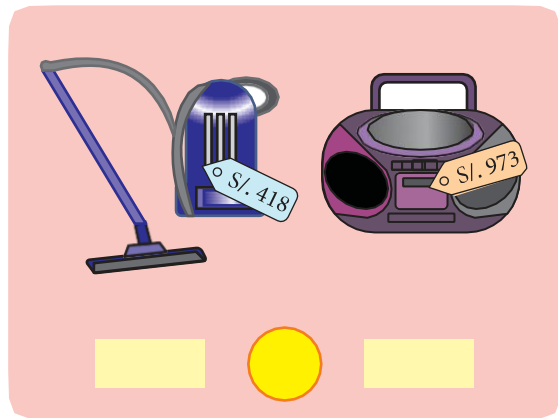
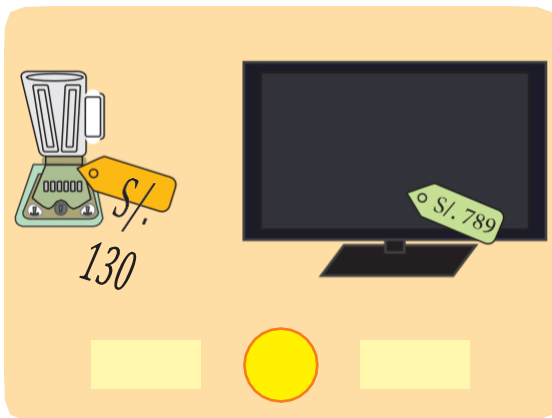
e) 899 899

b) 350 350

d) 164 664

f) 647 86

3 Observa los productos, escribe el número y coloca el signo $>$, $<$ o $=$.



4 Escribe en cada círculo el signo $>$, $<$ o $=$, según corresponda.

a) $\overbrace{305}^{305}$ $3C + 5U$



$\overbrace{87}^{87}$ $8D + 7U$

e) $5C + 7D$ $9C$



b) $4C + 1D$ $2C + 9D + 6U$



$2C + 9D + 6U$

f) 379 $3C + 7D + 9U$



$3C + 7D + 9U$

c) 578 $5C + 7D + 9U$



$5C + 7D + 9U$

g) $3D + 2U + 6D$ $7D + 1C$



$7D + 1C$

d) $7U + 2C + 0D$ $3C + 5U$



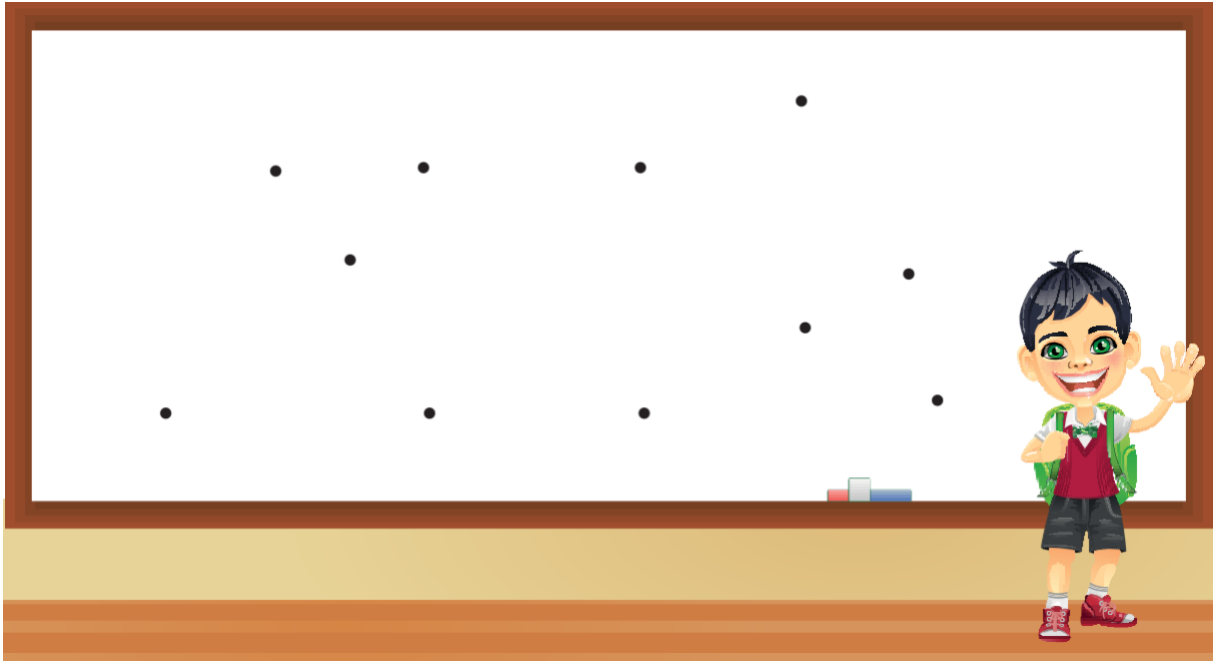
$3C + 5U$

h) $73U + 7U$ $8D + 0U$



$8D + 0U$

- 10 Con la ayuda de los puntos traza una figura con menos de seis lados y más de cuatro.



- 11 Escribe en el el signo $<$, $>$ o $=$ según corresponda.

a) 680 405

e) 810 900

i) 200 197

b) 971 991

f) 675 500

j) 700 700

c) 314 413

g) 234 234

k) 674 764

d) 63 306

h) 231 132

i) 486 624

DEMUESTRO mis habilidades

- 12 Ordena de menor a mayor.

315 – 894 – 456 – 808 – 235 – 584

$<$ $<$ $<$ $<$ $<$

Colorea la respuesta correcta:

13 En una pastelería hay 3 docenas de pasteles de chocolate y 27 pasteles de vainilla.

¿De qué sabor hay menos pasteles?

- Hay menos pasteles de chocolate
- Hay menos pasteles de vainilla

14 En un avión hay 48 mujeres y 5 decenas de hombres.

¿Hay más hombres o mujeres?

- Hay más hombres
- Hay más mujeres

15 Tatiana ordena de mayor a menor sus 5 cartas con los números 34, 12 y 78, 56 y 26.

¿Cómo deben estar ordenadas sus cartas?

- 12 – 26 – 34 – 56 – 78
- 78 – 56 – 34 – 26 – 12

16 Mariana tenía 58 stickers y recibió 6 más. Lorena tenía 60 stickers y recibió 5 más.

¿Qué comparación es cierta?

- Mariana y Lorena tienen la misma cantidad de stickers.
- Mariana tiene más stickers que Lorena.
- Mariana tiene menos stickers que Lorena.

17 Ana tiene más globos que Renzo. Luego, Ana y Renzo ganaron la misma cantidad de globos.

Ahora, ¿quién tiene menos?

- Ana
- Renzo

18 Tomás ordenó sus cartas de la siguiente manera. 87 – 55 – 43 – 24 – 15

¿Qué orden eligió Tomás?

- De mayor a menor
- De menor a mayor