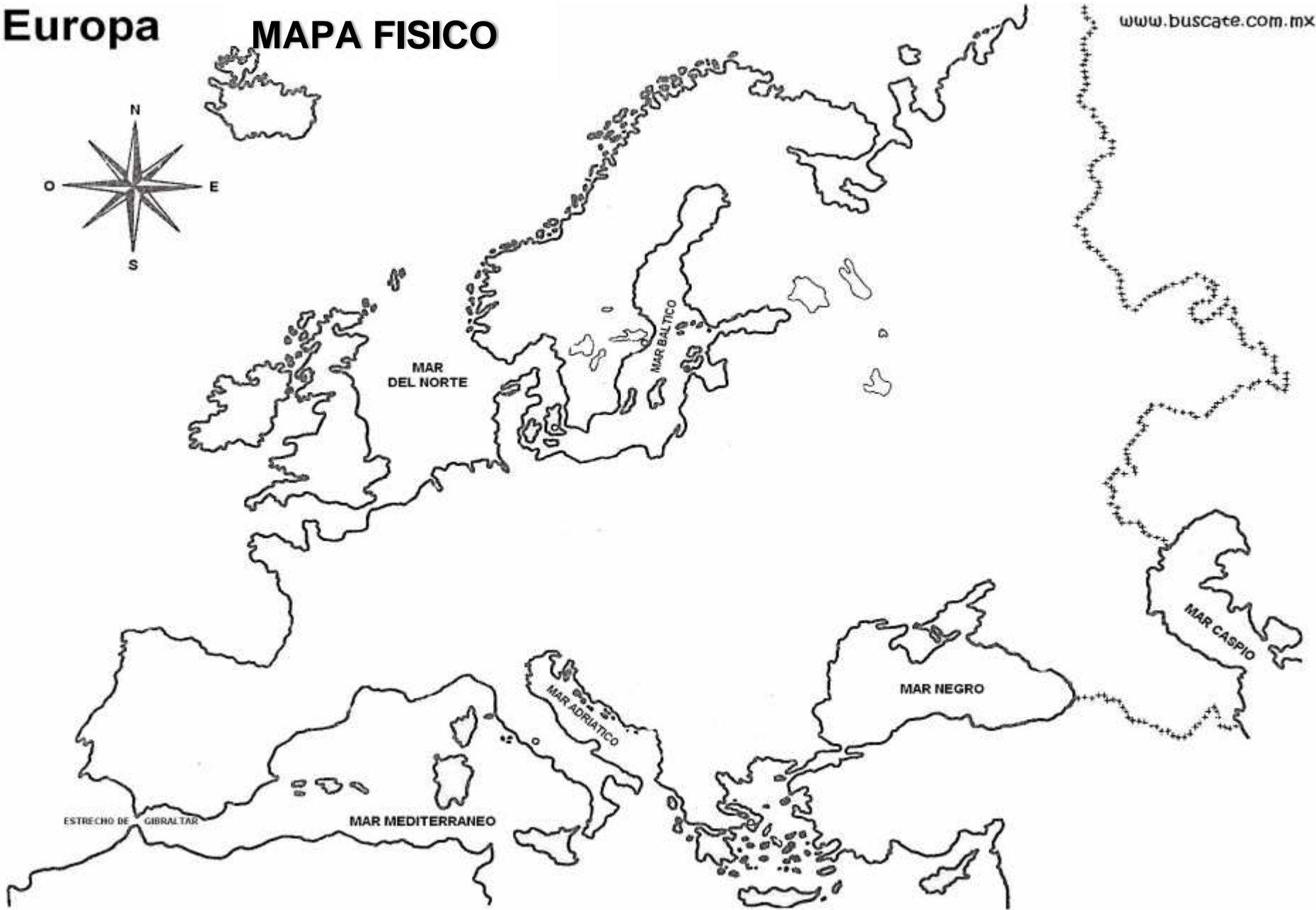
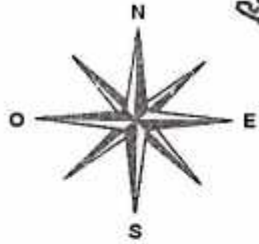




Europa

MAPA FISICO

www.buscate.com.mx



GRADO: 9 CIENCIAS SOCIALES TALLER: 1

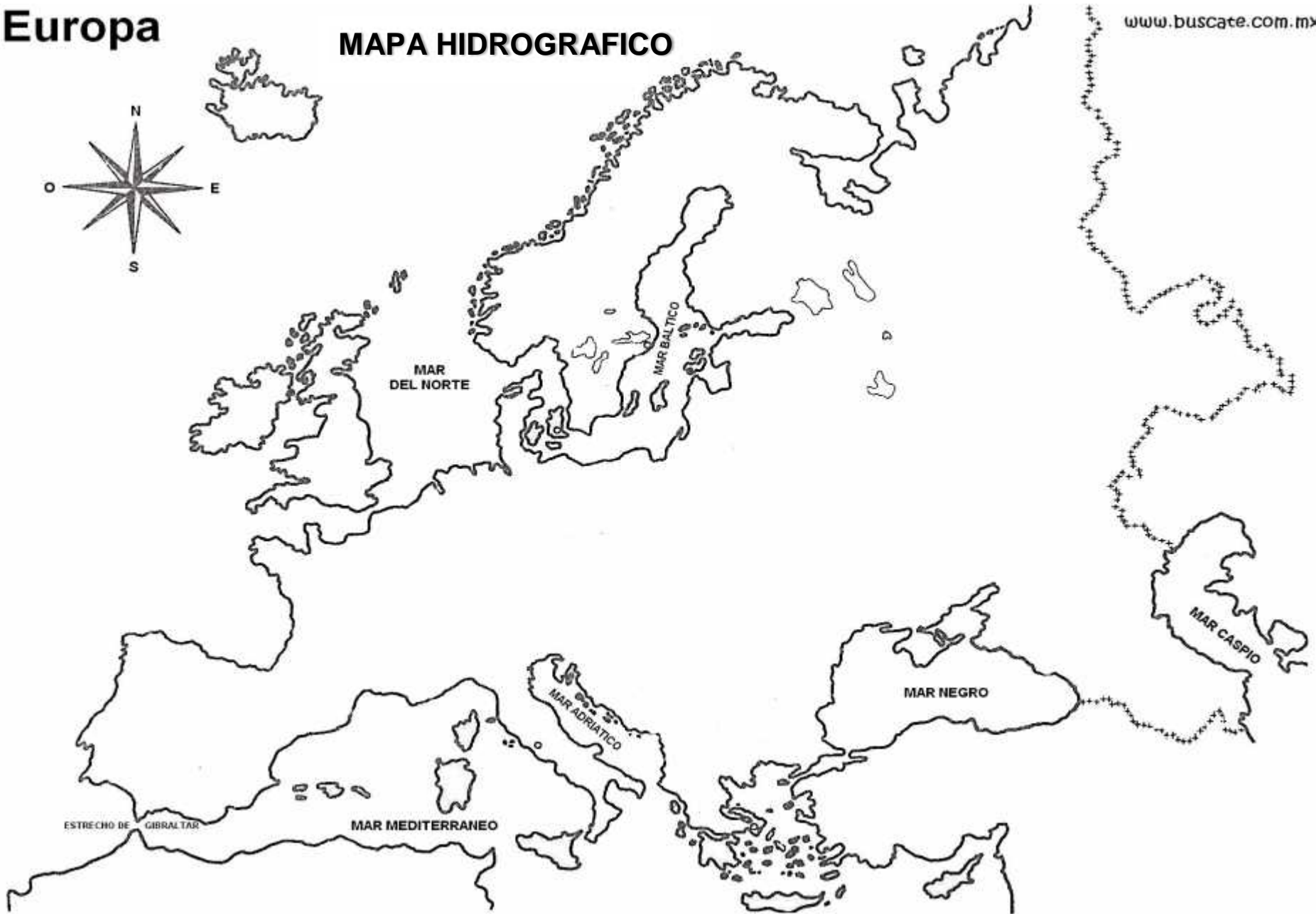
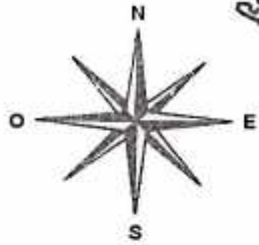
En el mapa físico de Europa y teniendo como referente el relieve, localiza los siguientes accidentes geográficos:

1. Montes Pirineos
2. Macizo central francés
3. Cordillera de los Alpes
4. Alpes Dinaricos
5. Montes Carpatos
6. Montes Caucaso
7. Montes Urales
8. Montes Apeninos
9. Monte Blanco
10. Cordillera Escandinava
11. Península Itálica
12. Península Ibérica
13. Península Balcánica
14. Península del Peloponeso
15. Península de Jutlandia
16. Península de Kola
17. Isla de Islandia
18. Islas Británicas
19. Islas Baleares
20. Isla de Córcega

21. Isla de Cerdeña
22. Isla de Cerdeña
23. Isla de Sicilia
24. Isla de Malta
25. Isla de Chipre
26. Isla de Creta
27. Isla del Peloponeso
28. Islas Canarias

Europa

MAPA HIDROGRAFICO



En el mapa Hidrográfico de Europa, localiza:

1. Océano Atlántico
2. Océano Glacial Ártico
3. Mar Mediterráneo
4. Mar del Norte
5. Mar Báltico
6. Mar Tirreno
7. Mar Adriático
8. Mar Jónico
9. Mar Egeo
10. Mar Azov
11. Mar Negro
12. Mar Caspio
13. Río Volga
14. Río Danubio
15. Río Dniéper
16. Río Dniéster
17. Río Rin
18. Río Po
19. Río Sena
20. Río Elba
21. Río Támesis

GRADO: 9 CIENCIAS SOCIALES TALLER: 1

22. Rio Loira

23. Rio Ebro

24. Rio Tajo

25. Rio Duero

26. Rio Vístula

27. Rio Aral

28. Rio Dvina

29. Rio Pechora

30. Canal de la Mancha

31. Estrecho de Gibraltar

32. Estrecho de Vizcaya

33. Lago Ladoga

34. Región de los lagos